

ജില്ലയുടെ പേര്. **തൃശ്ശൂർ**
 ബി.ആർ.സി യുടെ പേര്. **കൊടകര**

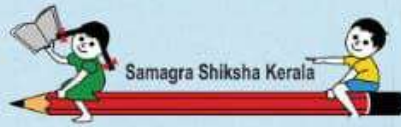
സ്റ്റാൻഡേർഡ് : 7
 വിഷയം : അടിസ്ഥാന ശാസ്ത്രം
 യൂണിറ്റ് : 4
 പാഠം : അന്നപഥത്തിലൂടെ
 വർക്ക്ഷീറ്റ് നമ്പർ : 01

ആരംഭം 01

വൈറ്റ് ബോർഡ് ഷീറ്റ്

താഴെ തന്നിരിക്കുന്ന ജീവികളെ അവ കഴിക്കുന്ന ആഹാരത്തിന്റെ ചിത്രവുമായി യോജിപ്പിക്കുക.





ജില്ലയുടെ പേര്. **തൃശ്ശൂർ**
 ബി.ആർ.സി യുടെ പേര്. **കൊടകര**

സ്റ്റാൻഡേർഡ് : 7
 വിഷയം : അടിസ്ഥാന ശാസ്ത്രം
 യൂണിറ്റ് : 4
 പാഠം : അന്നപഥത്തിലൂടെ
 വർക്ക്ഷീറ്റ് നമ്പർ : 02

തുടർച്ച **02**

വൈറ്റ് ബോർഡ് ഷീറ്റ്

പുരിപ്പിക്കുക

താഴെ തന്നിരിക്കുന്ന വാക്യങ്ങൾ സൂചനകളുടെ സഹായത്തോടെ പുരിപ്പിക്കുക.

(പുമ്പാറ്റ, തത്ത, സിംഹം)

----- മാംസം കടിച്ചുകീറുന്നു.

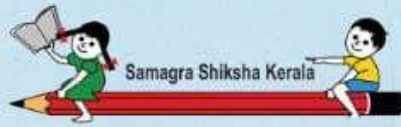


----- തേൻ വലിച്ചു കുടിക്കുന്നു.



----- പേരക്ക കൊത്തി തിന്നുന്നു.





ജില്ലയുടെ പേര്: **തൃശ്ശൂർ**
 ബി.ആർ.സി യുടെ പേര്: **കൊടകര**

സ്റ്റാൻഡേർഡ് : 7
 വിഷയം : അടിസ്ഥാന ശാസ്ത്രം
 യൂണിറ്റ് : 4
 പാഠം : അന്നപഥത്തിലൂടെ
 വർക്ക്ഷീറ്റ് നമ്പർ : 03

തുടർച്ച 03

വൈറ്റ് ബോർഡ് ഷീറ്റ്

ചിത്രങ്ങൾ നോക്കി താഴെ
 തന്നിരിക്കുന്നവ
 പൂർത്തിയാക്കുക



മോണോട്രോപ്പ



ഇത്തിൾ ചെടി

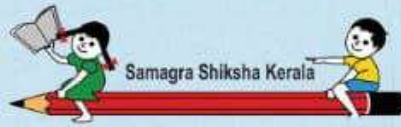


മുടില്ലാത്താളി

പൂർണ്ണപരാദം:

അർധപരാദം :

ശവോപജീവി :



ജില്ലയുടെ പേര്. **തൃശ്ശൂർ**
 ബി.ആർ.സി യുടെ പേര്. **കൊടകര**

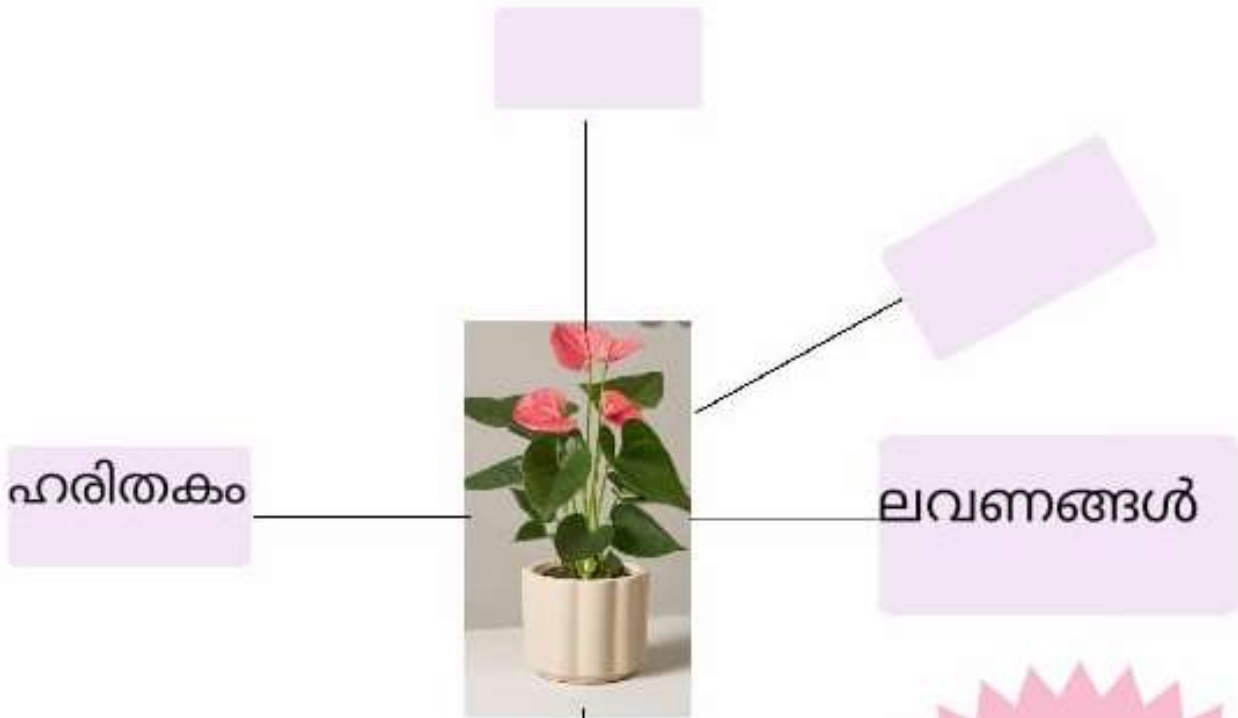
സ്റ്റാൻഡേർഡ് : 7
 വിഷയം : അടിസ്ഥാന ശാസ്ത്രം
 യൂണിറ്റ് : 4
 പാഠം : അന്നപഥത്തിലൂടെ
 വർക്ക്ഷീറ്റ് നമ്പർ : 04

തുടർച്ച **04**

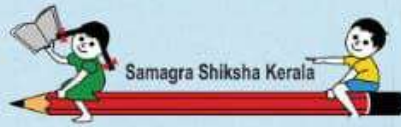
വൈറ്റ് ബോർഡ് ഷീറ്റ്

പദസൂര്യൻ പൂർത്തിയാക്കാമോ

പ്രകാശസംശ്ലേഷണത്തിനാവശ്യമായ ഘടകങ്ങൾ കണ്ടെത്തി പദസൂര്യൻ പൂർത്തിയാക്കുക



- * സൂര്യപ്രകാശം
- * ഓക്സിജൻ
- * ജലം
- * കാർബൺ ഡൈ ഓക്സൈഡ്



ജില്ലയുടെ പേര്: **തൃശ്ശൂർ**
ബി.ആർ.സി യുടെ പേര്: **കൊടകര**

സ്റ്റാൻഡേർഡ് : 7
വിഷയം : അടിസ്ഥാന ശാസ്ത്രം
യൂണിറ്റ് : 4
പാഠം : അന്നപഥത്തിലൂടെ
വർക്ക്ഷീറ്റ് നമ്പർ : 05

തുടർച്ച 05

വൈറ്റ് ബോർഡ് ഷീറ്റ്

ചേരുമ്പടി ചേർക്കുക

ചെറുകുടൽ



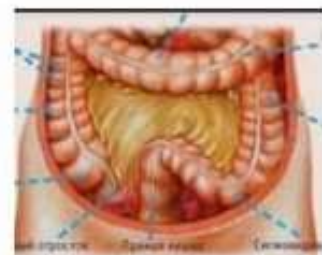
വൻകുടൽ

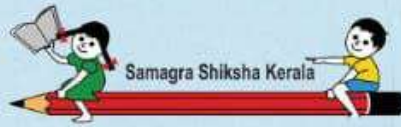


ആമാശയം



വായ





ജില്ലയുടെ പേര്: **തൃശ്ശൂർ**
 ബി.ആർ.സി യുടെ പേര്: **കൊടകര**

സ്റ്റാൻഡേർഡ് : 7
 വിഷയം : അടിസ്ഥാന ശാസ്ത്രം
 യൂണിറ്റ് : 4
 പാഠം : അന്നപഥത്തിലൂടെ
 വർക്ക്ഷീറ്റ് നമ്പർ : 06

തുടർച്ച 06

വൈറ്റ് ബോർഡ് ഷീറ്റ്

സഞ്ചാര പാത പൂർത്തിയാക്കാം

ആഹാരത്തിന്റെ സഞ്ചാര പാത ദഹനപ്രക്രിയയുടെ വിവിധ ഘട്ടങ്ങൾക്കനുസരിച്ച് ചിത്രങ്ങളുടെ സഹായത്തോടെ വരച്ച് പൂർത്തിയാക്കുക



ആഹാരം



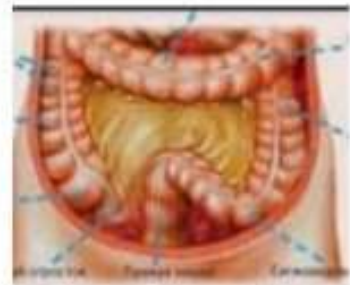
വായ്



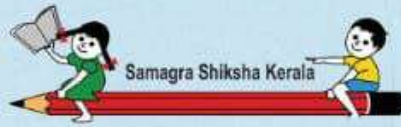
ആമാശയം



ചെറുകുടൽ



വൻകുടൽ



ജില്ലയുടെ പേര്. **തൃശ്ശൂർ**
 ബി.ആർ.സി യുടെ പേര്. **കൊടകര**

സ്റ്റാൻഡേർഡ് : 7
 വിഷയം : അടിസ്ഥാന ശാസ്ത്രം
 യൂണിറ്റ് : 4
 പാഠം : അനപഥത്തിലൂടെ
 വർക്ക്ഷീറ്റ് നമ്പർ : **07**

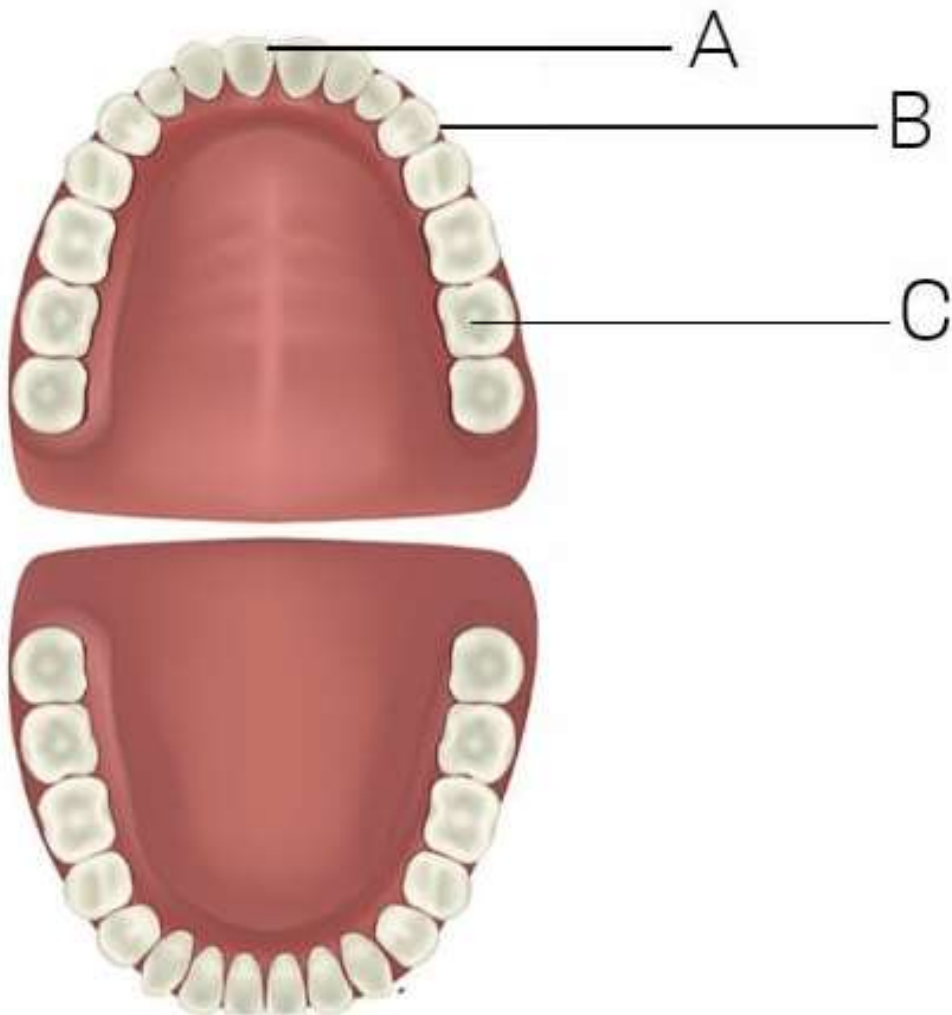
തുടർച്ച **07**

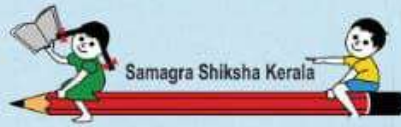
വൈറ്റ് ബോർഡ് ഷീറ്റ്

അടയാളപ്പെടുത്താം

ചുവടെ തന്നിരിക്കുന്ന സൂചനകൾ ഉപയോഗിച്ച് ചിത്രത്തിലെ A, B, C ഇവപൂരിപ്പിക്കുക

(ഉളിപ്പല്ല്, കോമ്പല്ല്, ചർവണകം)





ജില്ലയുടെ പേര്: **തൃശ്ശൂർ**
 ബി.ആർ.സി യുടെ പേര്: **കൊടകര**

സ്റ്റാൻഡേർഡ്	: 7
വിഷയം	: അടിസ്ഥാന ശാസ്ത്രം
യൂണിറ്റ്	: 4
പാഠം	: അന്നപഥത്തിലൂടെ
വർക്ക്ഷീറ്റ് നമ്പർ	: 08

തുടർച്ച **08**

വൈറ്റ് ബോർഡ് ഷീറ്റ്

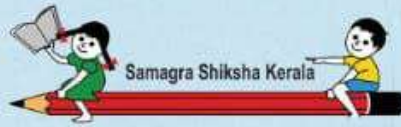
നല്ല ശീലങ്ങൾ ✓ ചെയ്യുക

താഴെ പറയുന്നവയിൽ പല്ലിന്റെ ആരോഗ്യത്തിന് വേണ്ട നല്ല ശീലങ്ങൾ കണ്ടെത്തി ✓ ചെയ്യുക

* ദിവസവും രണ്ടു നേരം പല്ലുതേക്കണം

* മധുര പലഹാരങ്ങൾ ധാരാളം കഴിക്കണം

* ആഹാരശേഷം വായ് വൃത്തിയാക്കി കഴുകണം



ജില്ലയുടെ പേര്. **തൃശ്ശൂർ**
 ബി.ആർ.സി യുടെ പേര്. **കൊടകര**

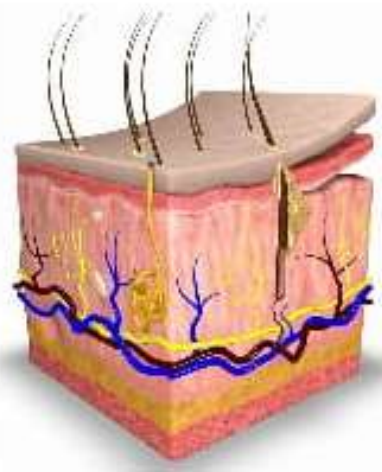
സ്റ്റാൻഡേർഡ് : 7
 വിഷയം : അടിസ്ഥാന ശാസ്ത്രം
 യൂണിറ്റ് : 4
 പാഠം : അന്നപഥത്തിലൂടെ
 വർക്ക്ഷീറ്റ് നമ്പർ : 09

തുടർച്ച 09

വൈറ്റ് ബോർഡ് ഷീറ്റ്

കണ്ടെത്താം

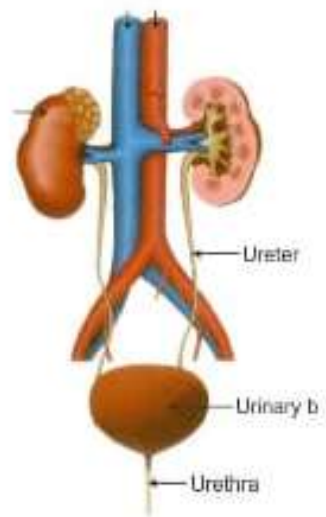
താഴെ തന്നിട്ടുള്ള ചിത്രങ്ങളിൽ നിന്ന് വിസർജ്ജനാവയവങ്ങൾ കണ്ടെത്തി ✓ ചെയ്യുക



ത്വക്ക്

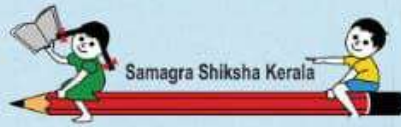


ഹൃദയം



വൃക്ക





ജില്ലയുടെ പേര്. **തൃശ്ശൂർ**
 ബി.ആർ.സി യുടെ പേര്. **കൊടകര**

സ്റ്റാൻഡേർഡ് : 7
 വിഷയം : അടിസ്ഥാന ശാസ്ത്രം
 യൂണിറ്റ് : 4
 പാഠം : അന്നപഥത്തിലൂടെ
 വർക്ക്ഷീറ്റ് നമ്പർ : 10

തുടർച്ച 10

വൈറ്റ് ബോർഡ് ഷീറ്റ്

പട്ടിക പൂർത്തിയാക്കാം

സസ്യങ്ങൾ മാലിന്യങ്ങൾ പുറന്തള്ളപ്പെടുന്ന മാർഗ്ഗങ്ങളുടെ അടിസ്ഥാനത്തിൽ താഴെ തന്നിട്ടുള്ള സസ്യങ്ങളെ അനുയോജ്യമായ പട്ടികയിൽ ചേർക്കുക



പ്ലാവ്



പേര



മാവ്

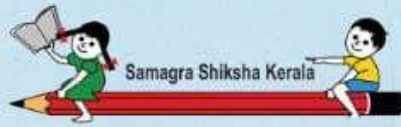


തേക്ക്



കശുമാവ്

<u>തൊലി അടരുന്നവ</u>	<u>മരക്കെട്ട് ഉണ്ടാകുന്നവ</u>



ജില്ലയുടെ പേര്. **തൃശ്ശൂർ**
 ബി.ആർ.സി യുടെ പേര്. **കൊടകര**

സ്റ്റാൻഡേർഡ് : 7
 വിഷയം : അടിസ്ഥാന ശാസ്ത്രം
 യൂണിറ്റ് : 4
 പാഠം : അന്നപഥത്തിലൂടെ
 വർക്ക്ഷീറ്റ് നമ്പർ : 11

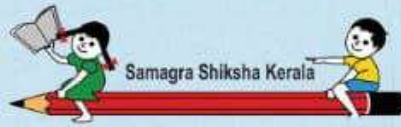
തുടർച്ച 11

വൈറ്റ് ബോർഡ് ഷീറ്റ്

താഴെ കൊടുത്തിരിക്കുന്ന ശുചിത്വ ശീലങ്ങളുടെ ചിത്രങ്ങൾ നോക്കി അവ പറഞ്ഞു കൊണ്ട് വട്ടം വരയ്ക്കുക.

നല്ല ശുചിത്വശീലങ്ങൾ





ജില്ലയുടെ പേര്. **തൃശ്ശൂർ**
ബി.ആർ.സി യുടെ പേര്. **കൊടകര**

സ്റ്റാൻഡേർഡ് : 7
വിഷയം : അടിസ്ഥാന ശാസ്ത്രം
യൂണിറ്റ് : 4
പാഠം : അനപഥത്തിലൂടെ
വർക്ക്ഷീറ്റ് നമ്പർ : 12

തുടർച്ച 12

വൈറ്റ് ബോർഡ് ഷീറ്റ്

അപ്പുവിന്റെ അസുഖമെല്ലാം മാറി.
ഇപ്പോൾ നല്ല ആരോഗ്യവാനായി.
ചുവടെയുള്ള ചിത്രങ്ങളിലെ
ഏതെല്ലാം ഭക്ഷണങ്ങൾ
കഴിച്ചാലാണ് നല്ല ആരോഗ്യം
ലഭിക്കുക. അവ കണ്ടെത്തി
അപ്പുവിന്റെ ചിത്രത്തിൽ നിന്നും
വരച്ചു ചേർക്കുക

